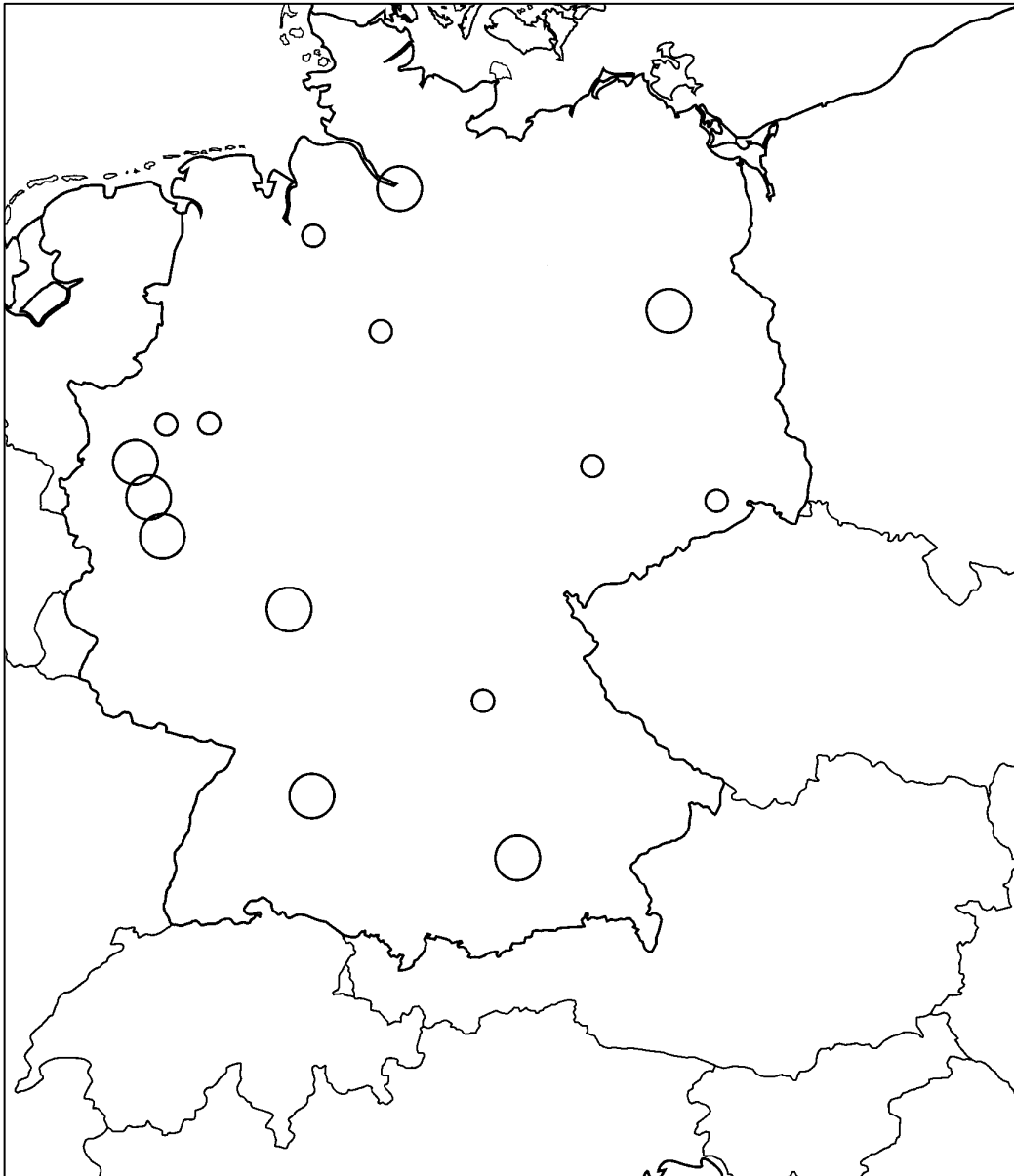


LES ACTIVITÉS : L'ALLEMAGNE






INTRODUCTION : A QUOI RESSEMBLE L'ALLEMAGNE ?

A L'AIDE DE LA CARTE DE LA PAGE 230 DE TON MANUEL,
REMPLE LA CARTE CI-DESSOUS PUIS LA LÉGENDE.



LÉGENDE :



LES TRANSFORMATIONS DU TERRITOIRE ALLEMAND


Allemagne de l'Ouest (ancienne RFA)

.....
.....
.....
.....
.....

Allemagne de l'Est (Ancienne RDA)

.....
.....
.....
.....

Les frontières de l'Allemagne réunifiée



DOCUMENTAIRE : DUISBOURG, UN PORT DANS LA RUHR

REGARDE ATTENTIVEMENT LE DOCUMENTAIRE ET RÉPONDS AUX QUESTIONS



Dans quelle région se trouve Duisbourg ?

Sur quel fleuve se trouve cette ville ?

Quelle est la surface des installations portuaires ?

Quelles sont les principales activités de la ville et du port ?

Combien d'habitant y-a-t-il à Duisbourg ?

A quoi était due la prospérité économique de la région au XIXe siècle ?

Et que se passe-t-il maintenant ?

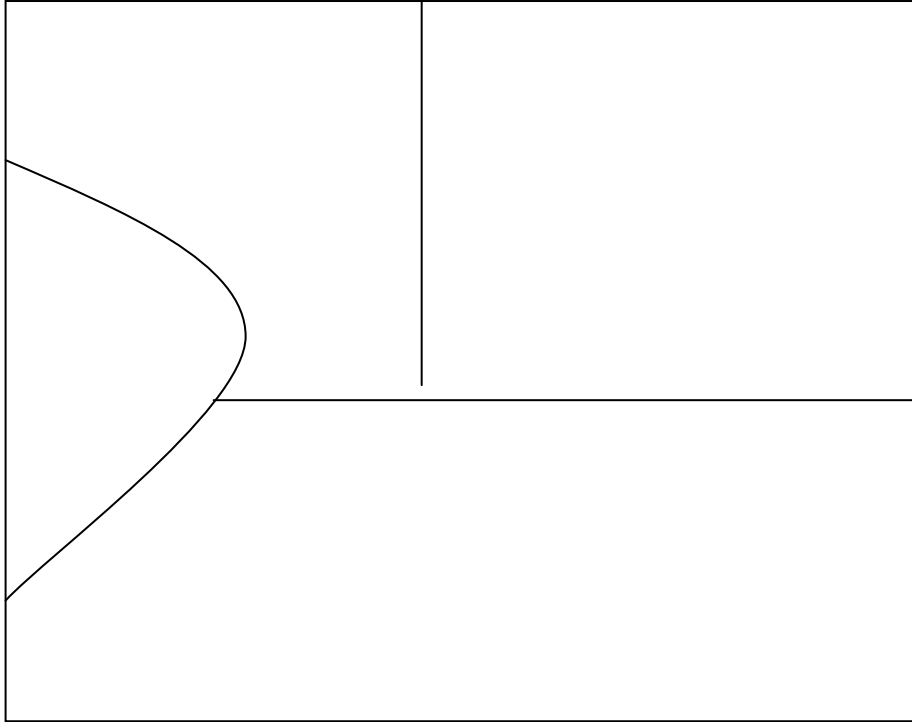
Qu'à fait la ville de Duisbourg et la Ruhr pour sortir de cette situation ?

Comment s'appelle la principale entreprise de Duisbourg ? Quelle est son activité ? Quel est son rang européen et mondial ?

Quels problèmes posent les activités de cette entreprise ?

COMMENT EST ORGANISÉ L'ESPACE ALLEMAND ?

CONSTRUIT LA LÉGENDE PUIS RÉALISE LE SCHÉMA DE SYNTHÈSE



LÉGENDE :

| | LA RHÉNANIE, LE COEUR DE LA PUISSANCE ALLEMANDE | L'ALLEMAGNE DU SUD DYNAMIQUE L'ALLEMAGNE MOYENNE | LES LÄNDER DE L'EST |
|--|--|--|---------------------|
| FIGURÉS PONCTUELS (LES POINTS) | | | |
| FIGURÉS LINÉAIRES (LES LIGNES) | | | |
| FIGURÉS DE SURFACE (LES SURFACES) | | | |